

نام :

به نام خدا

تاریخ :



نام خانوادگی :

پایه : اول (مقدماتی)

Telegram: @riaziane

آزمون های ادواری شماره ۱

مرکز تخصصی ریاضیات ویتزن


آغاز سال تمصیلی جدید را به دانش پژوهان عزیز و اولیاء محترم تبریک عرض می‌نماییم.

آینده تکنولوژی در دستان کسانیست که ریاضی را در زندگی به‌کار می‌برند.


موفق باشید.

زمان : ۷۰ دقیقه

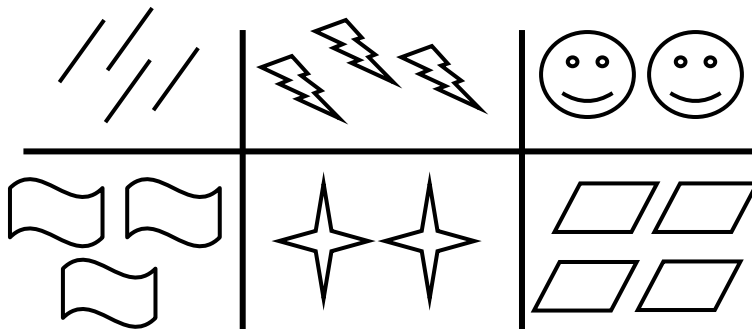
۱- از هر دسته از شکل‌های زیر دو تا را رنگ کنید. ۸ نمره



۲- کدام دسته از شکل‌های زیر الگو هستند؟ ۶ نمره



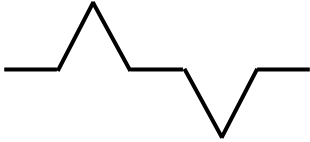
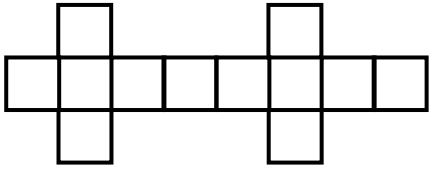
۳- شکل‌های مساوی را به هم وصل کنید. ۶ نمره




کلاسهای ریاضی مقدماتی ویتزن



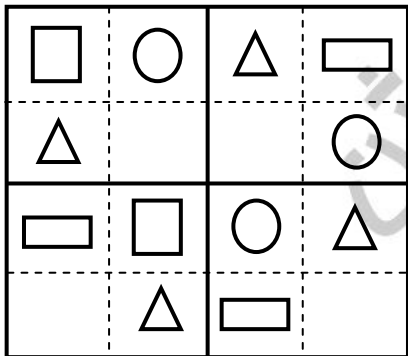
۴- الگوهای زیر را ادامه دهید. ۹ نمره



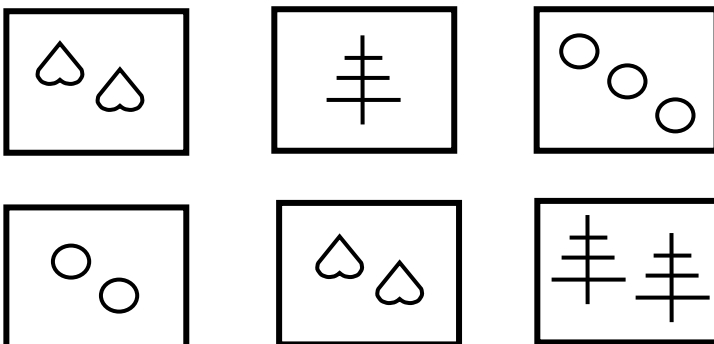
۵- جدول زیر را کامل کنید. ۸ نمره





۶- جدول شگفت انگیز را کامل کنید. ۸ نمره



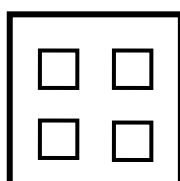
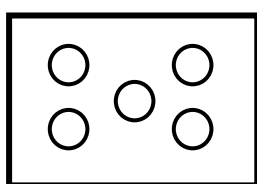
۷- شکل‌های یکسان را با هم جمع کنید و با چوب خط نشان دهید. ۹ نمره



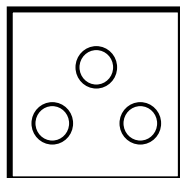

۸- به تعداد هر شکل یک واحد اضافه کرده و مربع‌ها را رنگ بزنید. ۸ نمره



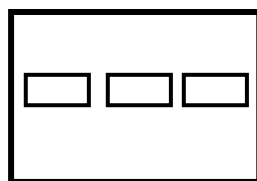
۹- از هر دسته از شکل‌های سمت چپ به اندازه شکل‌های سمت راست کم کنید و حاصل را با چوب خط نشان دهید. ۱۲ نمره



=



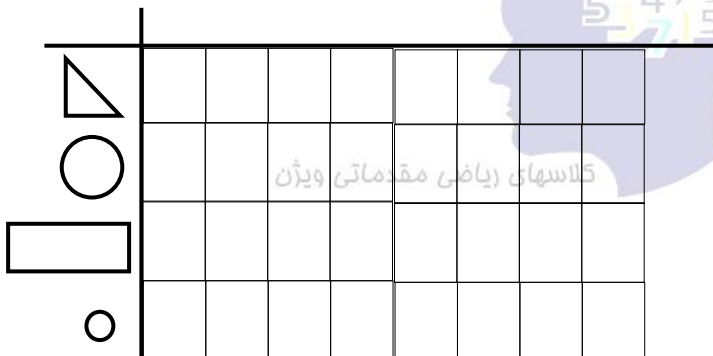
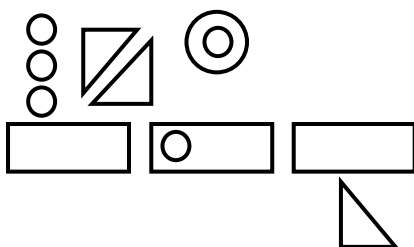
=



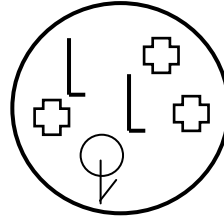

=

۱۰- سارا ۲ تا مداد دارد. پدرش هم به اندازه مدادهای سارا به او مداد می‌دهد. سارا چند مداد دارد؟ ۱۰ نمره

۱۱- به تعداد شکل‌های زیر خانه‌ها را رنگ بزنید. ۸ نمره



۱۲- شکل‌هایی که مشابهی ندارند مشخص کنید. ۱۰ نمره



۱۳- آرش و امیر هر کدام ۲ تا بستنی دارند. اگر هر کدام از آن‌ها یکی از بستنی‌هایشان را بخورند، تعداد بستنی‌های باقی‌مانده آرش و امیر روی هم چقدر می‌شود؟

۱۴- مریم خانم و همسرشان ۳ نفر مهمان دارند. چند بشقاب برای شام باید روی میز بگذارند؟

مرکز ریاضیات ویژن



کلاسهای ریاضی مقدماتی ویژن

موفق باشید.