

نام :

به نام خدا

تاریخ :



نام خانوادگی :

پایه : اول (مقدماتی)

Telegram: @riaziane

آزمون های ادواری شماره ۲

مرکز تخصصی ریاضیات ویژن


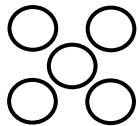
ویژن باور دارد هر دانش آموزی درون خود یک نابغه دارد، ما کمک می‌کنیم آن را پیدا کنید، نابغه درونتو پیدا کن.

برای ثبت نام در کلاس‌های تیزهوشان ورودی مدارس نمونه دولتی همین الان ثبت نام کنید.

موفق باشید.

زمان : ۶۰ دقیقه

۱ - به اندازه چوب خطها از دایره‌ها خط بزنید و حاصل را با مربع نشان دهید. ۸ نمره



۲ - ۴ انگشت از دست راست و ۲ انگشت از دست چپ را باز کرده ایم. حاصل را با چوب خط نشان دهید. ۶ نمره

۱, ---, ---, ۴, ---

۳ - جاهای خالی را پر کنید. ۶ نمره

۱, ۲, ---, ۴, ۵

۴ - الف) با توجه به رنگ آمیزی‌ها چوب خط بکشید. ۹ نمره

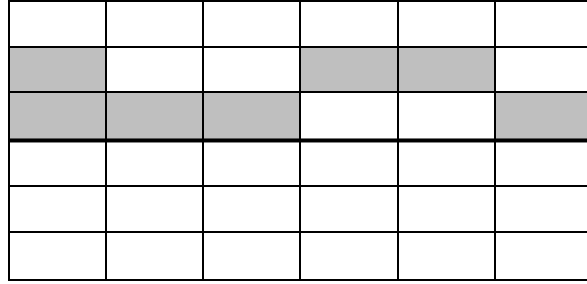
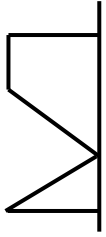


ب) با توجه به چوب خطها در خانه‌های مربع مشخص کنید.

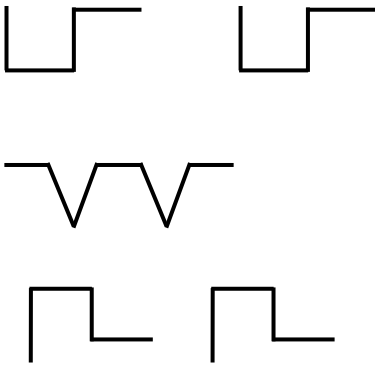
کلاسهای ریاضی تیزهوشان ویژن



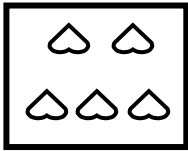
۵ - با توجه به خط تقارن نیمه دیگر شکل‌ها را رسم کنید. ۸ نمره



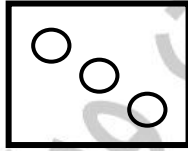
۶ - الگوهای زیر را ادامه دهید. ۸ نمره




۷ - عدد مناسب با هر شکل را بنویسید. ۹ نمره



- -



- -




- -



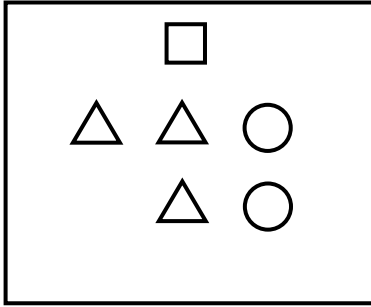
- -

۸ - اشرف خانم ۴ نفر مهمان دارد. اگر همگی دور میز بنشینند شما بشقاب‌های و قاشق چنگال‌ها را بکشید. ۸ نمره

۹ - از ۵ کبوتر روی درخت فقط ۲ کبوتر مانده است. چند کبوتر پرواز کرده است؟ (با شکل) ۱۰ نمره

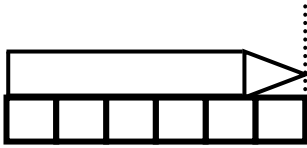


۱۰- شکل زیر را طوری کامل کنید که متناسب با جدول زیر باشد؟ ۱۰ نمره



□	
△	
○	

۱۱- طول ضلع مداد برابر با چند مربع می‌باشد؟ با چوب خط نشان دهید. ۸ نمره



۱۲- جدول شگفت انگیز زیر را کامل کنید. ۱۰ نمره

			۶	۲	
				۵	
۲			۵	۴	
	۳	۵			۲
	۱				
	۴	۶			

۱۳- به تعداد انگشت‌های دستان ۲ نفر دایره بکشید.

۱۴- ۲ تا گربه هرکدام ۲ موش خورده اند. چند موش خورده شده است؟



موفق باشید.