

نام :

به نام خدا

تاریخ :



نام خانوادگی :

پایه : اول ( مقدماتی )

Telegram: @riaziane

مرکز تخصصی ریاضیات ویژن

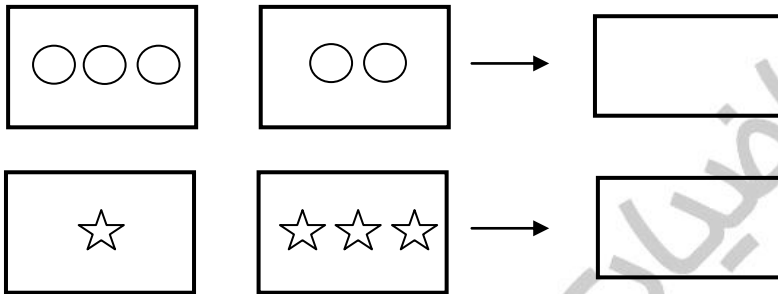
آزمون های ادواری شماره ۳

مرکز تخصصی ریاضیات ویژن با دبیران مجرب و متخصص آماده‌ی خدمات رسانی به شما دانش آموزان عزیز جهت کلاس‌های شب امتحانی می‌باشد.


موفق باشید.

زمان : ۶۰ دقیقه

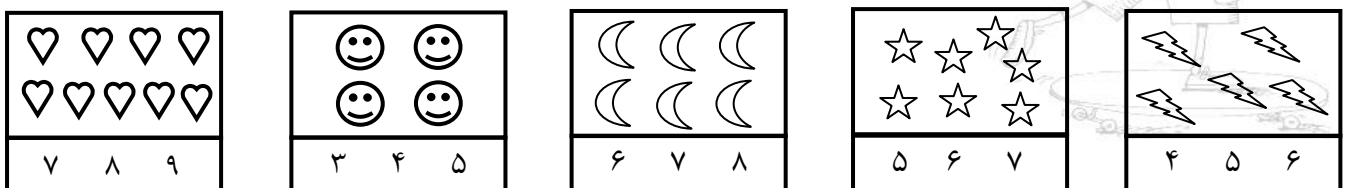
۱ - با کشیدن چوب خط حساب کنید شکل‌های سمت چپ و راست روی هم چندتا هستند؟ ( ۸ نمره )



۲ - از چینه‌های رنگی به تعداد چوب‌خط‌ها خط بزن. به تعداد باقی‌مانده از چینه‌های سمت راست رنگ کن: ( ۸ نمره )



۳ - دور عدد درست خط بکشید. ( ۱۰ نمره )



۴ - جدول زیر را کامل کنید. (۷ نمره)

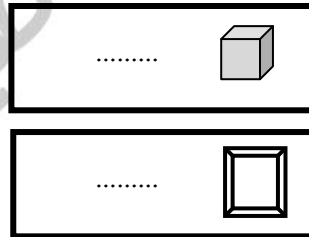
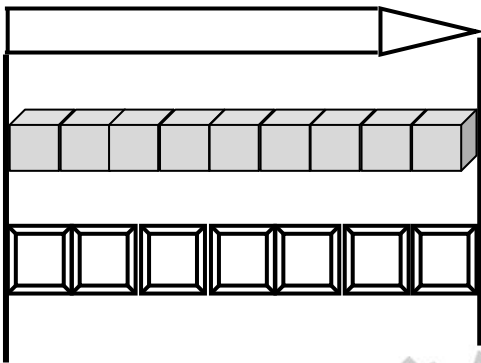
۶	۴	۵	۱	۳	۲
۱			۶	۴	۵
۴	۵				۱
۳	۲		۴	۵	۶
۵	۶		۲	۱	۳
۲	۱	۳	۵	۶	۴

۵ - برای شکل‌های زیر یک جمع بنویسید: (۸ نمره)



..... + ..... =

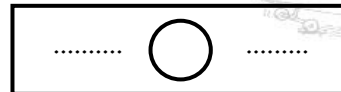
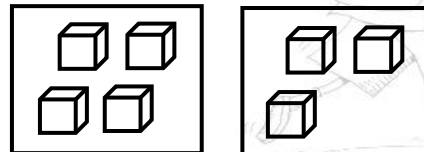
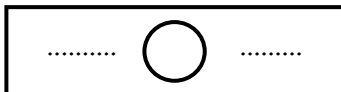
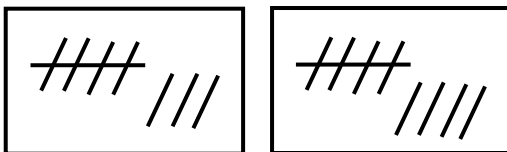
۶ - اندازه مداد چند شکل کوچک است؟ (۸ نمره)



۷ - با توجه به نمونه ادامه دهید. (۸ نمره)



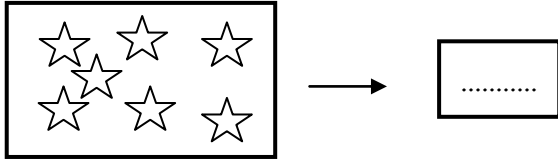
۸ - از علامت کمتر، بیشتر ( < ) یا مساوی ( = ) استفاده کنید: (۱۰ نمره)




۹ - مانند نمونه ادامه دهید: ( ۸ نمره )



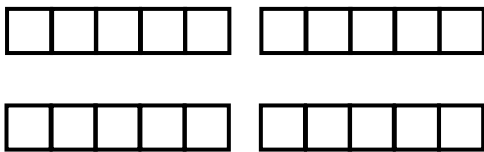
۱۰ - عددی بنویسید که ۴ تا کمتر از ستاره‌ها باشد؟ ( ۵ نمره )



۱۱ - مربع‌ها را طوری رنگ کنید که دو نیمه‌ی مثل هم به وجود آید. ( ۱۲ نمره )



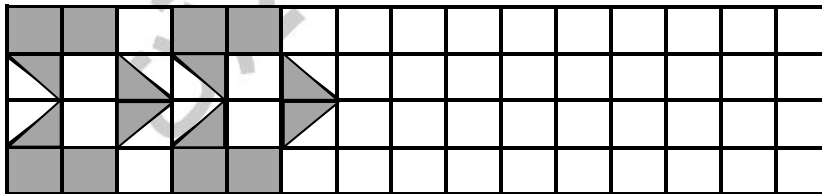
۱۲ - با رنگ کردن شکل‌ها به هر سوال پاسخ مناسب دهید. ( ۸ نمره )



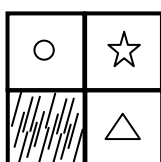
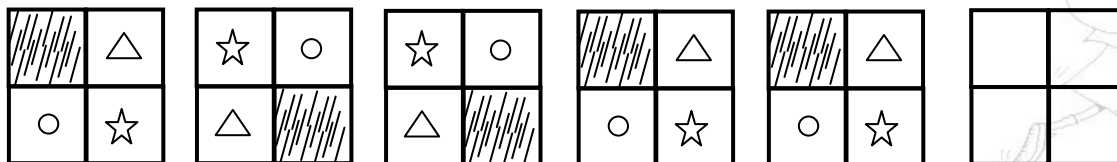
$۸ + ۲ = \dots\dots\dots$

$۵ + ۴ = \dots\dots\dots$

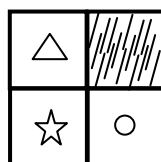
۱۳ - ادامه دهید: ( ۵۰ نمره )



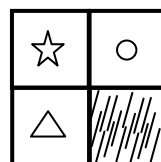
۱۴ - شکل بعدی کدام است؟ ( ۵۰ نمره )



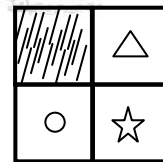
(ا)



(ب)



(ج)



(د)

موفق باشید.