

نام :

به نام خدا

تاریخ :

نام خانوادگی :



پایه : اول (مقدماتی)

Telegram: @riaziane

مرکز تخصصی ریاضیات ویرن

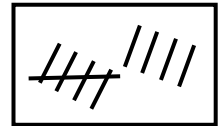
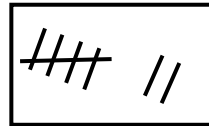
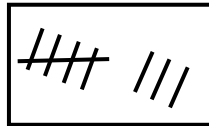
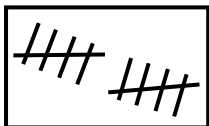
آزمون های ادواری شماره ۴

بسیاری از مردم فکر می کنند که فارغ التعمیل رشته ریاضی فقط کارآیی تدریس ریاضیات را دارد و بس در حالی که امروزه ، بسیاری از کارفرما ها منجمله دولت ها برای استخدام در بخش های مختلف سازمانها ی خود علاقه مندند متفحصینی را استخدام کنند، که دارای پشتوانه فوبی از ریاضیات باشند و به ویژه قادر به تجزیه و تحلیل مسائل موجود در آن کار و مطابقت دادن آنها با مدل های ریاضی و بلافره مل مسئله باشند.

نابغه درونتو پیدا کن

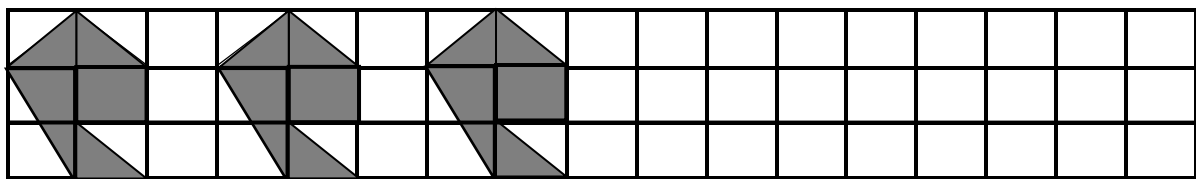
زمان : (۶۰ دقیقه)

۱ - هر عدد را به چوب خطی که با آن برابر است وصل کنید. (۱۰ نمره)

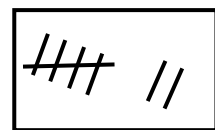
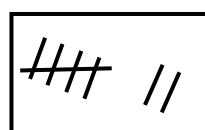
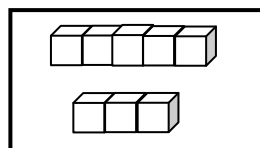
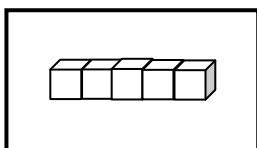


۲ - علی ۸ گل دارد. یکی بیش تر از گل های او دایره بکشید. (۸ نمره)

۳ - مانند نمونه ادامه دهید: (۹ نمره)



۴ - عدد هر دسته را بنویسید. سپس از علامت < یا > یا = استفاده کنید. (۸ نمره)



.....




.....

.....

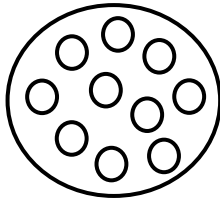


.....


۵ - یکی کمتر از عددی که هر شکل نشان می‌دهد را بنویسید. (۸ نمره)



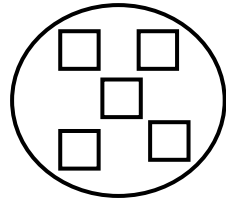
....



....



....



....

۶ - حاصل هر عبارت را بنویسید. (۸ نمره)

$$5 + 3 = \square$$

$$4 + 6 = \square$$

$$7 + 2 = \square$$

$$4 + 4 = \square$$


۷ - در هر جای خالی عدد مناسب بنویسید. (۹ نمره)

$$8 < \dots$$

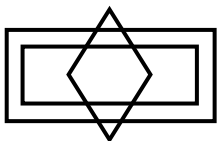
$$3 > \dots$$

$$5 = \dots$$

۸ - شکل زیر را طوری کامل کنید که دو نیمه‌ی شکل مثل هم باشند. (۶ نمره)



۹ - عددهای مثل هم را با خط‌کش به هم وصل کنید تا شکل سمت چپ به دست آید. (۸ نمره)



•۹

•۱۰

•۸

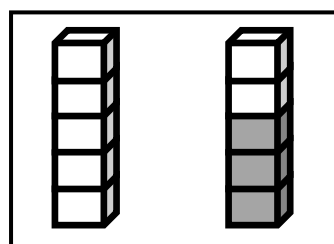
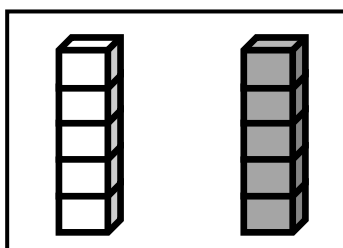
•۹

•۸

•۱۰

•۹

۱۰ - دوتا کمتر از چینه‌های سمت راست، از چینه‌های سمت چپ رنگ کنید: (۸ نمره)



۱۱- اگر به تعداد شکل‌های سمت چپ از شکل‌های سمت راست برداریم چند شکل باقی می‌ماند؟ (۸ نمره)



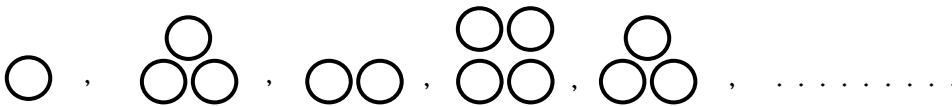
....

....

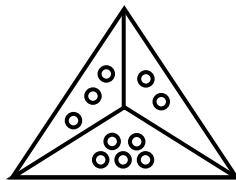
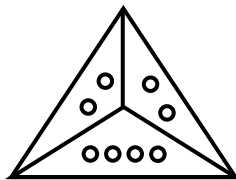
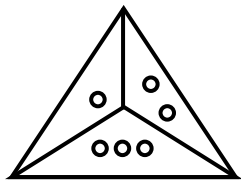
۱۲- کامل کنید. (۱۰ نمره)

۱	۸	۵	۳	۹	۶	۷	۲	۴
۳	۹	۶	۷	۲	۴	۱	۸	۵
۷	۲			۸	۵	۳	۹	۶
۸	۵			۶	۳	۲	۴	۷
۹	۶	۳	۲				۵	۱
۲	۴	۷	۸	۵	۱		۶	۳
۵	۱	۸	۶	۳			۷	۲
۶	۳	۹	۴	۷	۲	۵	۱	۸
۴	۷	۲	۵	۱	۸	۶	۳	۹

۱۳- شکل بعدی را بکشید: (۵۰ نمره)



۱۴- شکل بعدی کدام است؟ (۵۰ نمره)



?

