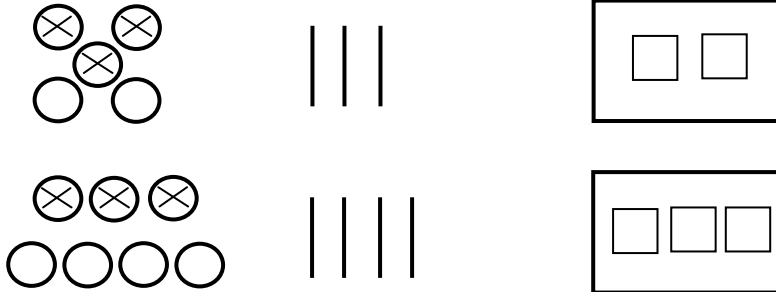


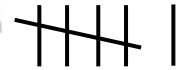


۱ -



حل:

۲ -



حل:

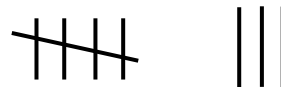

۳ -

۱، ۲، ۳، ۴، ۵

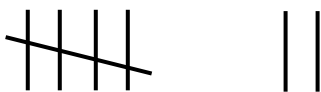
حل:

۱، ۲، ۳، ۴، ۵

۴ -

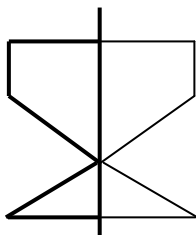


حل: الف)

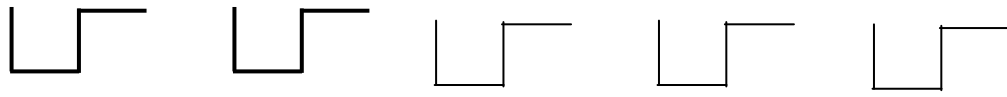


ب)

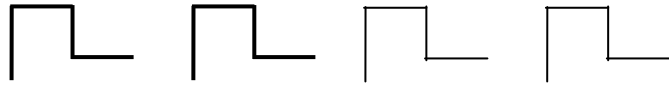
۵ -




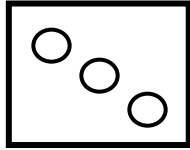
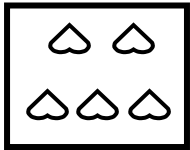
حل:



۶ - حل:



۷ -



حل:

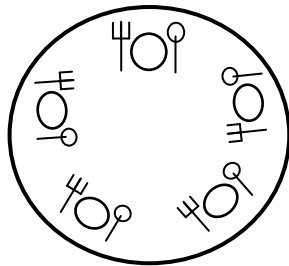
- ۵ -

- ۳ -

- ۴ -

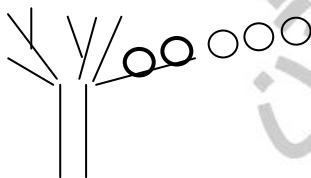
- ۰ -

۸ -

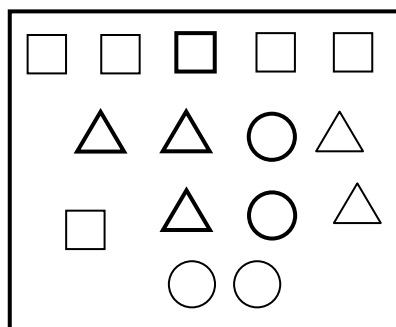


حل:

۹ - حل: ۳



۱۰ -

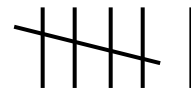


حل:



کلاسهای ریاضی تیزموشان ویژن

۱۱ -
حل:



۱۲ -

حل:

۱	۵	۳	۶	۲	۴
۶	۲	۴	۳	۵	۱
۲	۶	۱	۵	۴	۳
۴	۳	۵	۱	۶	۲
۵	۱	۲	۴	۳	۶
۳	۴	۶	۲	۱	۵

۱۳ -

حل: ۲۰

۱۴ -

حل: ۴

مپنژ ریاضیات ویژن



کلاسهای ریاضی تیزهوشان ویژن