



(۰/۲۵) (۰/۲۵)

$$\boxed{4} - \boxed{8} - 12 - 16 - 20$$

\swarrow \swarrow \swarrow \swarrow
 -4 -4 -4 -4


(۰/۲۵) (نمره) (۰/۲۵) (نمره)

$$\bigcirc - \bigcirc - 16 - 24 - 32$$

\swarrow \swarrow \swarrow \swarrow
 -8 -8 -8 -8

حل:

(۰/۲۵) (نمره)




مربع

(۰/۲۵) (نمره)



مثلث

(۰/۲۵) (نمره)



دایره

(۰/۲۵) (نمره)



مستطیل

حل:

- ۲

- ۳

حل:

۵	۹	۱	۶	۲	۴	۷	۸	۳
۷	۸	۳	۵	۹	۱	۶	۲	۴
۶	۲	۴	۷	۸	۳	۵	۹	۱
۹	۱	۵	۲	۴	۶	۸	۳	۷
۸	۳	۷	۹	۱	۵	۲	۴	۶
۲	۴	۶	۸	۳	۷	۹	۱	۵
۱	۵	۹	۴	۶	۲	۳	۷	۸
۳	۷	۸	۱	۵	۹	۴	۶	۲
۴	۶	۲	۳	۷	۸	۱	۵	۹

(۲ نمره)



به ریاضی عمیق تر نگاه کن
مرکز تخصصی ریاضیات ویژن

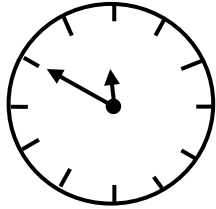
- ۴

حل: سعید ۹ سیب دارد.

$$18 - 9 = 9$$

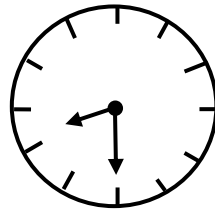
(۱ نمره)

۵ -
حل:



کمی به ساعت ۱۲ مانده است.

(۰/۵ نمره)



ساعت از ۸ گذشته است.

(۰/۵ نمره)

۶ -

حل: الف)

پنجاه و هشت ۵۸ (۰/۲۵ نمره)

چهل و یک ۴۱ (۰/۲۵ نمره)

سی و نه ۳۹ (۰/۲۵ نمره)

نود و سه ۹۳ (۰/۲۵ نمره)

ب) ۷۴ هفتاد و چهار (۰/۲۵ نمره)

۲۸ بیست و هشت (۰/۲۵ نمره)

۱۴ چهارده (۰/۲۵ نمره)

۶۶ شصت و شش (۰/۲۵ نمره)

۷ -

حل:

$$28 - 9 < 30 - 10$$

۱۹ ۲۰

(۰/۵ نمره)

$$25 + 7 > 14 + 10$$

۳۲ ۲۴

(۰/۵ نمره)

۸ -

حل:

(۱ نمره)


۲۲

۹ -

حل:

عدد به رقم: ۳۶ (۰/۵ نمره)

عدد به حروف: سی و شش (۰/۵ نمره)



(۰/۵ نمره)

ده تایی	یکی
۳	۶

(۰/۵ نمره)

۱۰ -
حل:

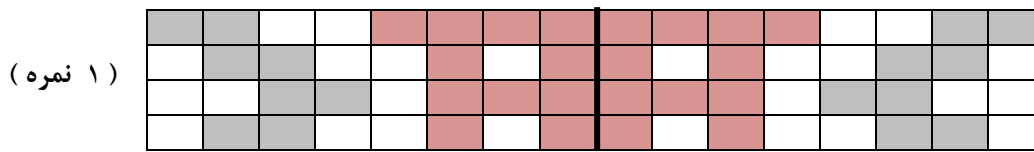
۲۰-۲۵-۳۰-۳۵-۴۰-۴۵-۵۰-۵۵-۶۰ (۱ نمره)

۱۱ -
حل:

۴۴-۳۰=۱۴ از ابتدا ۱۴ صندلی خالی بود. (۱ نمره)

۱۴+۹=۲۳ حالا اتوبوس ۲۳ صندلی خالی دارد. (۱ نمره)

۱۲ -
حل:



۱۳ -
حل:

(۲ نمره)

$$\begin{array}{r} 13 \\ \underbrace{} \\ 8-3+17-9+4=17 \\ \underbrace{} \\ 5 \\ \underbrace{} \\ 22 \end{array}$$

۱۴ -
حل:

شکلات گردویی = ۲۰

شکلات فندقی = ۹



$$20 + 9 = 29$$

علی روی هم ۲۹ شکلات دارد.

(۲ نمره)

به ریاضی عمیق تر نگاه کن
مرکز تخصصی ریاضیات و **یون**

دانلود نمونه سوال ، آموزش ریاضی، تدریس فصولی از سایت ریاضی ها **Riaziha.com** www.Riaziha.com