



۱ -

حل: سانتی‌متر و قسمت از ۱۰ قسمت مساوی

(۶ نمره)

۲ -

حل: الف) ۳ قسمت از ۵ قسمت مساوی

(۴ نمره)



ب) ۶ قسمت از ۷ قسمت مساوی

(۴ نمره)



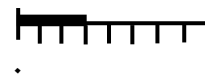
۳ -

حل: قسمت از قسمت مساوی

(۴ نمره)

حل: قسمت از قسمت مساوی

(۴ نمره)



۴ -

(۴ نمره) قد برادر مهدی $\rightarrow 168 - 17 = 151$

حل: قد این دو نفر روی هم ۳۱۹ سانتی‌متر است. (۱ نمره)

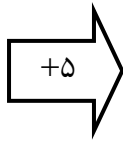
$$\begin{array}{r} 168 \\ +151 \\ \hline 319 \end{array} \quad (3 \text{ نمره})$$

۵ -

حل:

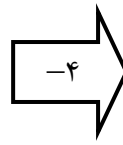
(۶ نمره)

۳
۰
۱۰
۱۳



۸
۵
۱۵
۱۸

۹
۵
۱۴
۲۰



۵
۱
۱۰
۱۶

۶ -
حل:

هر عدد (۱ نمره)

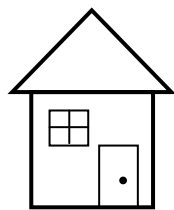
$$\boxed{۷۲} + ۲۴ = ۹۶$$

(۱۰ نمره)

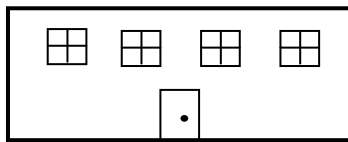
یا

$$۹۶ - ۲۴ = \boxed{۷۲}$$


۷ -
حل:



خانه



مدرسه

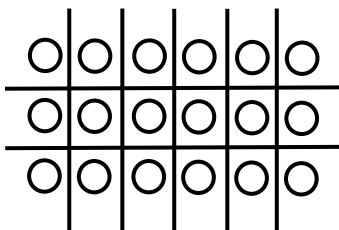


کتابخانه

۸ -
حل:

(۱۰ نمره)

به ۶ روش مختلف می توان از خانه به کتابخانه رفت.



۹ -
حل: ۶ تا ۳ تایی می شود (۴ نمره)

۳ تا ۶ تایی می شود (۴ نمره)

۱۰ - حل: ۴ قسمت از ۸ قسمت مساوی (۴ نمره)

۱۱ -

نوع کتاب	چوب خط	تعداد
داستانی	### ### ### ///	۱۸
مذهبی	### ### ### ### /	۲۱
علمی	### ### ### ////	۱۹

حل: الف) داستانی (۲ نمره)

ب) مذهبی (۲ نمره)

ج) $21 + 19 = 40$ (۲ نمره)

(۶ نمره)

۱۲ -

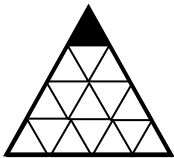
(۳ نمره) قیمت سه دفتر $200 + 200 + 200 = 600 \rightarrow$

حل:

(۳ نمره) $870 - 600 = 270$

قیمت خودکار ۲۷۰ تومان است. (۲ نمره)

۱۳ -



حل: ۱ قسمت از ۱۶ قسمت مساوی. (۵۰ نمره)

۱۴ -

حل: ۱ قسمت از ۲ قسمت مساوی. (۵۰ نمره)



به ریاضی عمیق تر نگاه کن
مرکز تخصصی ریاضیات و یون

www.Riaziha.com دانلود نمونه سوال ، آموزش ریاضی، تدریس خصوصی از سایت ریاضی ها