

نام :

به نام خدا

تاریخ :

نام خانوادگی :



Telegram: @riaziane

مرکز تخصصی ریاضیات ویژن

پایه : سوم

تدریس خصوصی در کل تهران  
۲۶۵۷۰۸۱۰

ویژن باور دارد هر دانش آموزی درون خود یک نابغه دارد، ما کمک می‌کنیم آن را پیدا کنید، نابغه درونتو پیدا کن.

برای ثبت نام در کلاس‌های تیزهوشان ورودی مدارس نمونه دولتی همین الان ثبت نام کنید.

به ریاضی عمیق تر نگاه کن

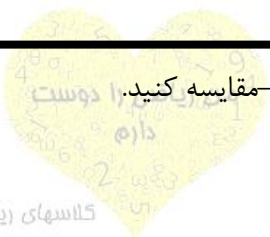

موفق باشید.

زمان : ۶۰ دقیقه

۱- به چند حالت می‌توان با سکه‌های ۵۰ و ۱۰۰ ریالی، ۳۰۰ تومان درست کرد؟

۲- فاصله ۸۹۸ تا ۱۰۰۰ چقدر است؟

۳- اگر هر  $\square$  نشان دهنده ۱۰ واحد باشد، شکل زیر چه عددی می‌شود؟



۱۰ تومان + ۱۰ ریال  ۲۰ تومان

۶۰۰ ریال - ۱۰ تومان  ۷۰ تومان - ۱۰ تومان

دانلود نمونه سوال ریاضی با جواب در سایت ریاضی ها [www.Riaziha.com](http://www.Riaziha.com)

۵ - جاهای خالی را پر کنید.

- ۵ صدتایی و ۲ صدتایی و ۵ هزارتایی و ۲ یکی می شود .....
- ۲ یکی و ۳ یکی و ۵ یکی و ۸ هزارتایی می شود .....

۶ - اگر هر دلار ۲۵۰۰ تومان باشد، آیا می توان با ۳ دلار یک کیف ده هزار تومانی خرید؟

۷ - علی ۱۵۰ تومان پول دارد و می خواهد ۲ تا کتاب ۸۰۰ ریالی بخرد. چند تومان کم دارد؟

۸ - خانم میرزایی یک مسیر ۲ کیلومتری را پیاده روی می کند و در بین راه ۳ بار استراحت می کند. دفعه اول بعد از یک کیلومتر، دفعه دوم ۴۰۰ متر و دفعه سوم در فاصله ۳۰۰ متری مانده به پایان مسیر استراحت می کند. خانم میرزایی از ابتدا تا سومین دفعه ای که استراحت کرده، چقدر راه پیموده است؟

۹ - جاهای خالی را پر کنید.

- ۴ کیلوگرم و ۹۰ گرم می شود .....
- ۶۰ متر و ۲ کیلومتر می شود .....
- ۷۰۷۰ متر برابر است با ..... کیلومتر و ..... متر.
- ۹۱۰۰ کیلوگرم برابر است با ..... گرم و ..... کیلوگرم.



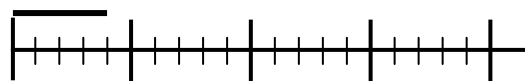
به ریاضی عمیق تر نگاه کن  
مرکز تخصصی ریاضیات و زبان

دانلود نمونه سوال ریاضی با جواب در سایت ریاضی ها [www.Riaziha.com](http://www.Riaziha.com)

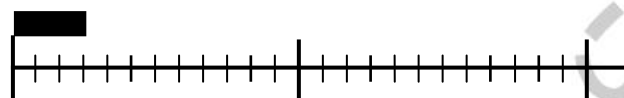
۱۰- وزن یک جعبه چوبی ۳۵۰ گرم می‌باشد. داخل جعبه یک لیوان و یک کاسه قرار می‌دهیم و وزن آن به ۲ کیلوگرم می‌رسد. اگر وزن کاسه یک کیلوگرم باشد، وزن لیوان چقدر است؟

۱۱- یک مستطیل بکشید و آن را به سه قسمت مساوی تقسیم کنید. یک قسمت را هاشور بزنید و قسمت دوم را نقطه چین کنید و قسمت آخر را دوباره به سه قسمت تقسیم کنید و دو قسمت را دوباره هاشور بزنید. چه کسری نقطه چین است و چه کسری سفید مانده است؟

۱۲- جاهای خالی را پر کنید.



- طول خط ..... قسمت از ..... است.



- طول ۳ تا پاک کن ..... قسمت از ..... است.

۱۳- یک مستطیل داریم طول آن را به ۵ قسمت و عرض آن را به ۴ قسمت مساوی تقسیم کرده ایم. اگر دو ردیف بالا را رنگ بزنیم، چه کسری از شکل را رنگ کرده ایم؟

۱۴- هر دلار ۲۰۰ تومان می‌باشد. با ۸۰۰۰ تومان چند دلار می‌توانیم بخریم؟



به ریاضی عمیق تر نگاه کن  
مرکز تخصصی ریاضیات ویژن

کلاسهای ریاضی تیزهوشان ویژن

نیاز به تلاش بیشتر

قابل قبول

خوب

خیلی خوب

موفق باشید.

دانلود نمونه سوال ریاضی با جواب در سایت ریاضی ها [www.Riaziha.com](http://www.Riaziha.com)