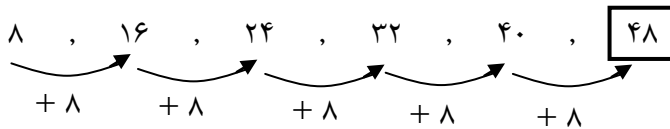




۱ -

حل:

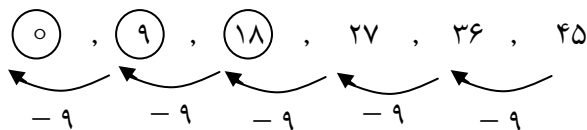


(۶ نمره)

۲ -

حل:

(۲ نمره) (۲ نمره) (۲ نمره)



۳ -

حل:

$$7 + 13 - 6 = 14$$

۲۰

(۸ نمره)

۴ -

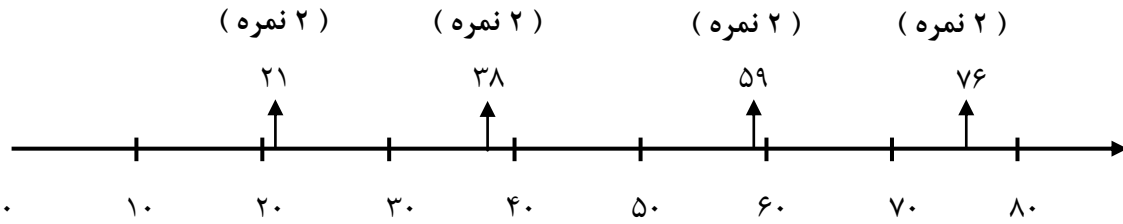
حل:

دهگان	یکان			دهگان	یکان	
۸	۶ →	۸۶		۸	↙ ↘	۶ →
۸	۹ →	۸۹				۹ →
۱	۶ →	۱۶		۱	↙ ↘	۶ →
۱	۹ →	۱۹	یا			۹ →
۵	۶ →	۵۶		۵	↙ ↘	۶ →
۵	۹ →	۵۹				۹ →

هر عدد (۱ نمره)

۵ -

حل:



۶ -

حل: برادر حسین ۲۸ دقیقه دویده است.

$$\begin{array}{r} 57 \\ -29 \\ \hline 28 \\ -9 \\ \hline 19 \end{array}$$

(۸ نمره)

(۲ نمره)

۷ -

حل: اکنون فاطمه ۷۰ شکلات دارد.

(۱۰ نمره)

$$\begin{array}{r} 29 \\ +41 \\ \hline 69 \\ +1 \\ \hline 70 \end{array}$$

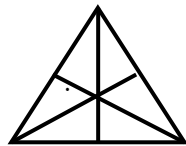
۸ -

حل:



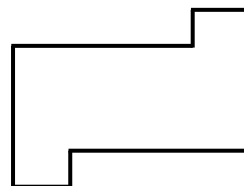
خط تقارن ندارد.

(۲ نمره)



۳ خط تقارن دارد.

(۳ نمره)



خط تقارن ندارد.

(۲ نمره)

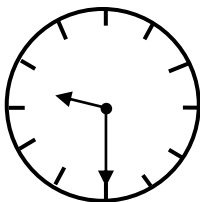


۱ خط تقارن دارد.

(۳ نمره)

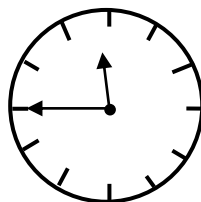
۹ -

حل:



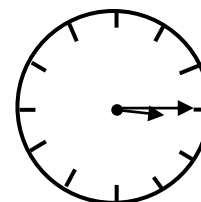
نه و نیم (۲ نمره)

۹:۳۰ (۱ نمره)



یک ربع مانده به ۱۲ (۲ نمره)

۱۱:۴۵ (۱ نمره)

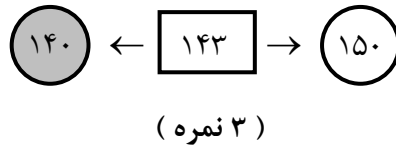
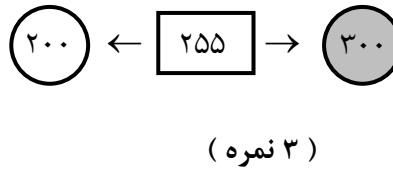
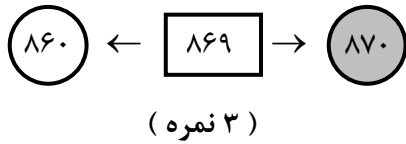


سه و ربع (۲ نمره)

۳:۱۵ (۱ نمره)

لذت آموزش آنلاین در تدریس لاین www.Tadrisline.com

۱۰ -
حل:



۱۱ -

حل: ۶ عدد سه رقمی می توان نوشت که عبارتند از:

۴۷۳ - ۴۳۷ - ۷۴۳ - ۷۳۴ - ۳۴۷ - ۳۷۴

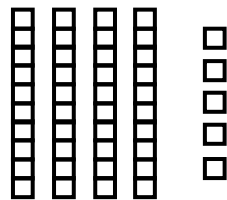
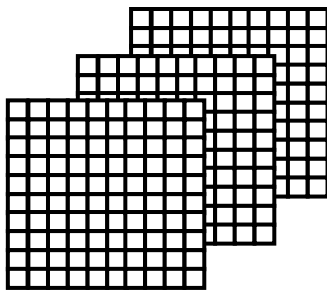
هر عدد (۱ نمره)

کوچک ترین: ۳۷۴ (۱ نمره)

بزرگ ترین: ۷۴۳ (۱ نمره)

۱۲ -

حل:






صدگان	دهگان	یکان
۳	۴	۵

(۲ نمره)

عدد به رقم: ۳۴۵
(۱ نمره)

عدد به حروف: سی صد و چهل و پنج
(۲ نمره)




صدگان	دهگان	یکان
۵	۹	۴

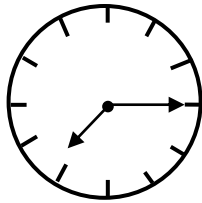
(۲ نمره)

عدد به رقم: ۵۹۴
(۱ نمره)

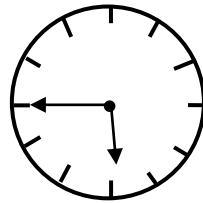
عدد به حروف: پانصد و نود و چهار (۲ نمره)



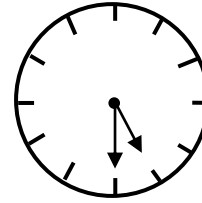
۱۳ -
حل:
(۵۰ نمره)



علی ۷:۱۵ به مدرسه رفت.



علی ۵:۴۵ نماز خواند.



علی ۵:۳۰ از خواب بیدار شد.

۱۴ -
حل:



به ریاضی عمیق تر نگاه کن
مرکز تخصصی ریاضیات و **یون**

لذت آموزش آنلاین در تدریس لاین www.Tadrisline.com